

2020-2021 学年鼓楼区小学数学一年级下册期末参考试卷

(完卷时间:40 分钟)

等级_____

一、算一算。

1. 口算。

$11-8=$

$15-9=$

$13-8=$

$30+2=$

$9+7=$

$92-70=$

$27+5=$

$56-6=$

$18+8=$

$7+86=$

$15-9+30=$

$45-5+7=$

$17+(8-2)=$

$40+(10+6)=$

$87-9+6=$

2. 在○里填上“>”、“<”或“=”

$74+8 \bigcirc 78$

$56+6 \bigcirc 62$

$49-6 \bigcirc 39+8$

$1 \text{ 元 } \bigcirc 100 \text{ 分}$

$2 \text{ 角 } + 38 \text{ 分 } \bigcirc 4 \text{ 角}$

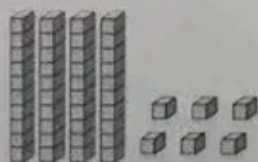
$190 \text{ 角 } \bigcirc 11 \text{ 元}$

二、填一填。


1. 先看图写数,再比大小。



()



()



()



()

() > () > () > ()

2. 78 里面有()个十,()个一。比八十九多一个十的数是()。

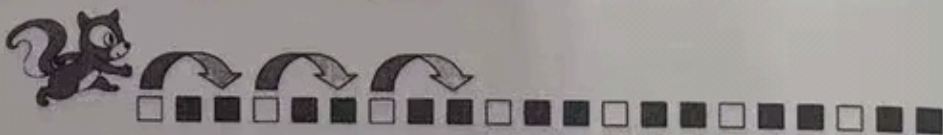
3. 先填空,再在括号里的正确答案上“√”。



48 更接近(40, 50),

42 更接近(40, 50)

4. 小松鼠如下图所示跳方格,每次跳 3 格。

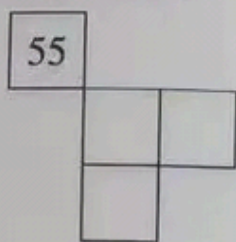


(1) 按照规律,接着画“ ”。


(2) 小松鼠第 5 次可以跳到第()个方格。

(3) 小松鼠一共要跳()次,才能跳完所有的方格。

5. 根据数学书 41 页 (1-100) 百数表, 填写方格里的数。



7. 数一数, 填一填。



图形					
个数					

比 \triangle 多 () 个。

6. 你能在每朵花中写上一个数, 使这些花按一定的规律排列吗?



(1) \diamond 添上 () 个, 就和 \square 同样多。

(2) 从第二行拿 () 个 \square 摆到第一行, 两行的图形就一样多了。

9. 至少需要 () 个相同的小正方形可以拼成一个较大的正方形。

三、选一选。(将正确答案的序号填在括号里)

1. 《童话大王》一共有 60 页, 我差不多看了一半, 我可能看了 () 页。

- ① 50 ② 29 ③ 15

2. 有 53 朵 , 如果每 10 朵做一个花环, 最多能做 () 个花环。

- ① 3 ② 6 ③ 5

3. 丽丽有 25 朵红花, 黄花比红花多得多。黄花可能有 () 朵。

- ① 16 ② 28 ③ 80

4. 豆豆买了一架 73 元玩具飞机, 他已经付了 3 元, 他最多再付 () 张 10 元。

- ① 7 ② 8 ③ 6

5. 在数位顺序表中用 6 个 \bullet 摆两位数, 能摆出 () 个。

- ① 5 ② 6 ③ 7

6.在七巧板中,可以由3号板和5号板拼成的图形是()。

① 6号


② 1号、7号

③ 1号、2号、4号




四、画一画,数一数。

1.画一条线,把下面的图形按要求分别变成:

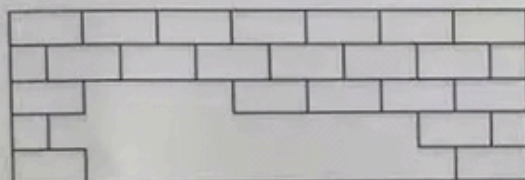


两个长方形



两个三角形

2.用你喜欢的方法数出一共缺几块砖。



缺了()块砖。

五、解决问题。

1.一共有 33 个苹果。每 8 个装一篮,可以装几篮?



口答:可以装满()篮,
还剩()个。

2.这本故事书共有多少页?



我每天看 20 页,看了 3 天,正好看完。



_____ (页)

3.六一节时一年级新队员入队,其中女生 38 人,男生 20 人,大队部准备 60 条红领巾够吗?计算后,在正确的答案后面“√”。

够 ☐ 不够 ☐

4.鼓鼓和楼楼一共要擦 50 张桌子,还剩几张没有擦?(用两种方法解答)



_____ (张)

_____ (张)

裁

赠

裁

题号

成绩

一、

二、

三、

四、

五、

合计